


Asini prātu!

# UZDEVUMI AR SĒRKO CIŅIEM


un citi atjautības uzdevumi





Sastādījusi *Inta Kalniņa*

*Lilijas Rimicānes* mākslinieciskais noformējums



ISBN 978-9934-534-63-8

© SIA «Izdevniecība Avots»  
© I. Kalniņa, sast. mat.  
© L. Rimicāne, māksl. nof.



**GUDRĪBA NAV ATKARĪGA  
NO INTELEKTA KOEFICIENTA.**


*Fricis Rinhofers*

Mēs zinām, ka spēlētis ar sērkociņiem nedrīkst. Taču šoreiz varētu būt izņēmums. Mazākajiem dalībniekiem noderēs kociņi, kuriem viens no galiem īpaši iezīmēts, būs nepieciešama arī pieredzējušāku spēlētāju padoms.

Šeit apkopoti apmēram 50 varianti, kā ar nelielu sērkociņu skaitu «palauzīt» prātu, un vai nu vienatnē, vai, sacenšoties draugu pulkā, īsināt laiku un likt darboties atjautībai un loģiskai domāšanai.

LAI VEICAS!








**1.**  
UZDEVUMS

Pielieciet klāt divus sērkociņus tā, lai dabūtu astoņnieku!



**2.**  
UZDEVUMS

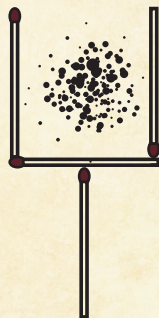
Pārvietojiet vienu sērkociņu tā, lai izveidotos četrinieks!





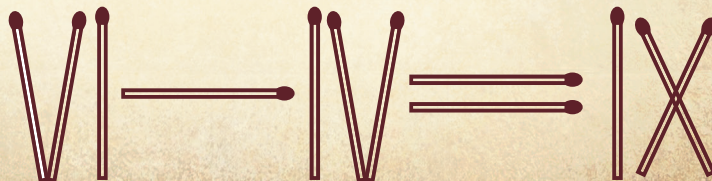
**3.**  
UZDEVUMS

Pārvietojiet divus sērkokociņus tā, lai netūrumi atrastos nevis uz lāpstas, bet gan ārpus tās!




**4.**  
UZDEVUMS

No divpadsmit sērkokociņiem salieciet zīmējumā parādīto «vienlīdzību». Vienlīdzība ir nepareiza, jo iznāk, ka  $6 - 4 = 9$ . Izlabojiet kļūdu, pārliedot tikai vienu sērkokociņu!



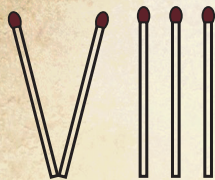


# ATBILDES

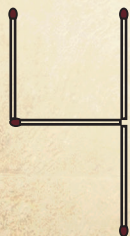





1. UZDEVUMS



2. UZDEVUMS



3. UZDEVUMS



4. UZDEVUMS

